



ମେଟ୍ରିକ ମାପ ପଦ୍ଧତି



ଆଜି ବିଦ୍ୟାଳୟର ବାର୍ଷିକ ଉତ୍ସବ । ଶିକ୍ଷକ ଓ ଛାତ୍ରଛାତ୍ରୀ ସମସ୍ତେ କାର୍ଯ୍ୟବ୍ୟସ୍ତ । ମଞ୍ଚ ତିଆରି ଦାୟିତ୍ଵ ପଞ୍ଚମ ଶ୍ରେଣୀ ପିଲାଙ୍କ ଉପରେ । ଦିନ ୧୨ ଟା ହେଲାଣି ମଞ୍ଚ ପାଇଁ କେବଳ ୪ ଟା ବାଉଁଶ ପୋତା ଯାଇଛି । ଉପର ଆଡ଼ି ବାଉଁଶ ବନ୍ଧା ହୋଇନାହିଁ କି ପାଲ ପଡ଼ିନାହିଁ । ଉପର ଆଡ଼ି ବାଉଁଶ ୪ ମିଟର ଉଚ୍ଚତାରେ ବାନ୍ଧିବା ପାଇଁ ଶିଡ଼ି ଖୋଜା ଚାଲିଛି । ହେଲେ ୪ମି. ଉଚ୍ଚତାର ଶିଡ଼ି ମିଳୁନାହିଁ । ଏତିକିବେଳେ ଆସି ପହଞ୍ଚିଲା ସଲିମ । ପରିସ୍ଥିତି ଦେଖି କହିଲା - ‘ଆରେ - ଏଇଟା ଶିଡ଼ି ଖୋଜିବାର ବେଳ ନୁହେଁ । ବୁଦ୍ଧି ଖଟାଇ କାମ କରି ଯାଅ । ଗା ଟି ଟେବୁଲ ନେଇ ଆସ । ଉପରକୁ ଉପର ଗା ଟି ଟେବୁଲକୁ ସଜାଡ଼ି ରଖ ଦୁଇ ତିନି ଜଣ ଟେବୁଲଗୁଡ଼ିକୁ ଜୋର କରି ଧର । ଆଉ ଜଣେ ଟେବୁଲ ଉପରେ ଚଢ଼ି ବାଉଁଶ ବାନ୍ଧ ।’ କଥାଟା ସମସ୍ତଙ୍କୁ ମନକୁ ପାଇଲା । ଡେରି ନ କରି ଚାଲି ପାଞ୍ଚ ଜଣ ପୁଅ ଝିଅ ଗା ଟି ଟେବୁଲ ବୋହି ଆଣିଲେ । ଲିଜା ଏସବୁ କଥା ଶୁଣୁଥିଲା । ସେ ସଙ୍ଗେ ସଙ୍ଗେ ଗା ଟି ଟେବୁଲର ଉଚ୍ଚତା ମାପ ଫିଟା ଧରି ମାପ କଲା । ପ୍ରତି ଟେବୁଲର ଉଚ୍ଚତା ହେଲା ୧ମି.୫ସେ.ମି. । ଏବେ ହିସାବ କରି କହ:





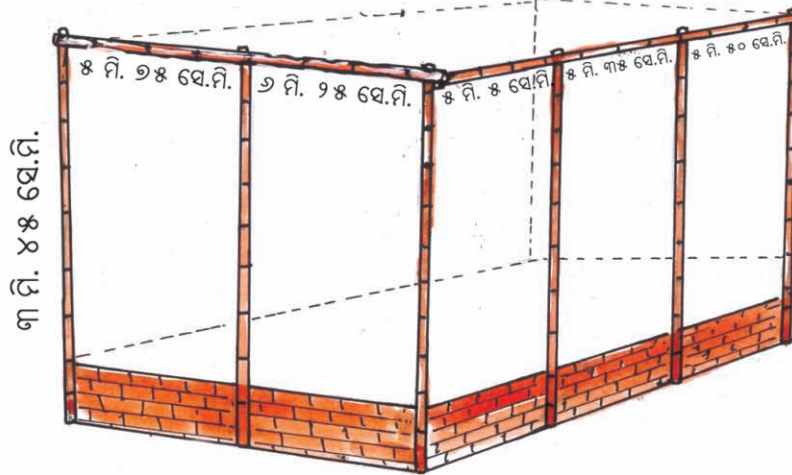

୩ଟି ଟେବୁଲ ଉପରକୁ ଉପର ରଖିଲେ କେତେ ଉଚ୍ଚତା ହେବ ?

ସମସ୍ତେ ହିସାବ କଲେ -

୧ ମି ୫ ସେ.ମି. + ୧ ମି. ୫ ସେ.ମି. + ୧ ମି. ୫ ସେ.ମି. =

ତା'ପରେ ସଲିମ୍ କହିଲା ୪ ମି. ଉଚ୍ଚତାରେ ପାଲ ପଡ଼ିବ ।

ଏବେ କହ - ୩ ଟି ଟେବୁଲ ଉପରକୁ ଉପର ରଖିଲେ । ୪ ମିଟର ଉଚ୍ଚତାରେ ବାଉଁଶ କିପରି ବନ୍ଧା ହେବ ? ପାଲ ବାନ୍ଧିବା ପାଇଁ ପିଲାମାନେ କ'ଣ କରିଥିବେ ?



ମଞ୍ଚ କାମ ଶେଷ ହେବାପରେ, ଦର୍ଶକମାନଙ୍କର ବସିବା ପାଇଁ ସ୍ଥାନ ତିଆରି କରାଗଲା । ସେ ସ୍ଥାନ ଋରି ପାଖରେ ବାଉଁଶ ପୋତା ହେଲା । ଭୂମିଠାରୁ ପ୍ରତ୍ୟେକ ବାଉଁଶର ଉଚ୍ଚତା ୩ ମି. ୪୫ ସେ.ମି. । ଏହାପରେ ପ୍ରସ୍ତୁ ଭାବରେ ୫ମି. ୨୫ ସେ.ମି. ଓ ୨ମି. ୨୫ ସେ.ମି. ର ୨ଟି ବାଉଁଶ ଖଞ୍ଜା ହେଲା ଦୈର୍ଘ୍ୟ ଭାବରେ, ୫ମି. ୫ ସେ.ମି., ୫ମି. ୩୫ ସେ.ମି. ଓ ୫ମି. ୫୦ ସେ.ମି. ଲମ୍ବର ୩ଟି ବାଉଁଶ ବନ୍ଧା ହୋଇ କପଡ଼ା ବନ୍ଧା ହେଲା ।

ଚିତ୍ର ଦେଖି ନିମ୍ନ ପ୍ରଶ୍ନଗୁଡ଼ିକର ଉତ୍ତର ଲେଖିବା-

- ଦର୍ଶକଙ୍କ ବସିବା ପାଇଁ ଥିବା ସ୍ଥାନର ପ୍ରସ୍ତୁ କେତେ ? _____
- ତୁମେ ଏହା କିପରି ଜାଣିଲ ? _____
- ବସିବା ପାଇଁ ଥିବା ସ୍ଥାନର ଦୈର୍ଘ୍ୟ କେତେ ? _____
- ଏହା କିପରି ଜାଣିଲ ? _____

ଆସ ଦେଖିବା, ଦର୍ଶକମାନଙ୍କର ବସିବା ପାଇଁ ଥିବା ସ୍ଥାନର ପ୍ରସ୍ତୁ କେତେ ।

ଚିତ୍ରକୁ ଦେଖ, ପ୍ରସ୍ତୁ ପଟେ ଲାଗିଥିବା ଦୁଇ ଖଣ୍ଡ ବାଉଁଶର ଲମ୍ବ ହେଉଛି ୫ମି. ୨୫ ସେ.ମି. ଓ ୨ମି. ୨୫ ସେ.ମି. ।

ପ୍ରସ୍ତୁ ପଟେ ଲାଗିଥିବା ବାଉଁଶ ଦୁଇଟିର ଦୈର୍ଘ୍ୟର ସମଷ୍ଟି ନିର୍ଣ୍ଣୟ କରିବା ପାଇଁ ଦୈର୍ଘ୍ୟ ଦୁଇଟିକୁ ଏକକ ଅନୁଯାୟୀ ତଳକୁ ତଳ ଲେଖିବା ।





ମିଟର ସେ.ମି.

୧

$$\text{ପ୍ରଥମ ବାଉଁଶର ଦୈର୍ଘ୍ୟ} = 8 \quad 98$$

$$\text{ଦ୍ୱିତୀୟ ବାଉଁଶର ଦୈର୍ଘ୍ୟ} = + 9 \quad 98$$

$$17 \quad 900$$

ସେହିପରି ଦର୍ଶକଙ୍କ ପାଇଁ ଉଦ୍ଦିଷ୍ଟ ବସିବା ସ୍ଥାନର ଦୈର୍ଘ୍ୟ ଜାଣିବା ପାଇଁ ନିମ୍ନଲିଖିତ ପ୍ରଶ୍ନଗୁଡ଼ିକର ଉତ୍ତର ଲେଖ ।

- ଦୈର୍ଘ୍ୟ ପଟରେ କେତେ ଖଣ୍ଡ ବାଉଁଶ ଲାଗିଥିଲା ? _____
- ସେଗୁଡ଼ିକର ଦୈର୍ଘ୍ୟ କେତେ କେତେ ? _____
- ବାଉଁଶ ତିନୋଟିର ଦୈର୍ଘ୍ୟର ସମଷ୍ଟି କେତେ ? _____
- ଲୋକଙ୍କ ବସିବା ପାଇଁ ଉଦ୍ଦିଷ୍ଟ ସ୍ଥାନର ଦୈର୍ଘ୍ୟ = _____
ପ୍ରସ୍ତ = _____

- ଏହି ସ୍ଥାନର ଦୈର୍ଘ୍ୟ ଓ ପ୍ରସ୍ତ ମଧ୍ୟରୁ କାହାର ଲମ୍ବା ଅଧିକ ଓ କେତେ ଅଧିକ ?

ଯୋତା ଯାଇଥିବା ବାଉଁଶ ଖୁଣ୍ଟରୁ ଯଦି ୩ଟି ଲଗାଲଗି କରି ସିଧାରେ ରଖାଯାଏ, ତେବେ ମୋଟ ଦୈର୍ଘ୍ୟ କେତେ ହେବ ?

ଯୋତା ଯାଇଥିବା ବାଉଁଶର ଦୈର୍ଘ୍ୟ ୩ମି. ୪୫ ସେ.ମି. ।



୩ମି. ୪୫ସେ.ମି.



୩ମି. ୪୫ସେ.ମି.



୩ମି. ୪୫ସେ.ମି.

ତିନିଖଣ୍ଡ ବାଉଁଶର ଦୈର୍ଘ୍ୟ ପରିମାଣ ଜାଣିବା ପାଇଁ ୩ମି. ୪୫ସେ.ମି.ରେ ୩ ଗୁଣନ କରିବାକୁ ହେବ ।

ଏଠାରେ ଦୁଇ ଉପାୟରେ ଗୁଣନ କରାଯାଇଛି । ଲକ୍ଷ୍ୟ କର ।

ପ୍ରଥମ ପ୍ରଣାଳୀ

ମି. ସେ.ମି

୧

୩ ୪୫

× ୩

୧୦ ୩୫

∴ ୩ ମି. ୪୫ ସେ.ମି × ୩

= ୧୦ମି ୩୫ ସେ.ମି

ଦ୍ୱିତୀୟ ପ୍ରଣାଳୀ

୩ମି ୪୫ ସେ.ମି = ୩ମି + ୪୫ ସେ.ମି

= ୩୦୦ମି + ୪୫ ସେ.ମି

= ୩୪୫ ସେ.ମି

୩୪୫

× ୩

୧୦୩୫

୩୪୫ ସେ.ମି. × ୩ = ୧୦୩୫ ସେ.ମି.

= ୧୦୦୦ସେ.ମି+୩୫ ସେ.ମି

= ୧୦ମି + ୩୫ସେ.ମି.

= ୧୦ମି.୩୫ ସେ.ମି





ଉପରୋକ୍ତ ଦୁଇ ପ୍ରଶାଳାରେ କରାଯାଇଥିବା ଗୁଣନ ପ୍ରକ୍ରିୟାରେ କ'ଣ ଭିନ୍ନତା ଅଛି ?

କେଉଁ ପ୍ରଶାଳାରେ ହୋଇଥିବା ଗୁଣନ ତୁମର ପସନ୍ଦ ହେଉଛି କହ । ଏହାର କାରଣ କ'ଣ ?



୧. ଉତ୍ତର ନିର୍ଣ୍ଣୟ କର -

$$୭ମି. ୪୫ ସେ.ମି. \times ୭ =$$

$$୧୨ମି. ୫୦ ସେ.ମି. \times ୯ =$$

୨. ଗୋଟିଏ ଗାଈ ପାଇଁ ପଘା ତିଆରି କରିବାକୁ ୧ମିଟର ୨୦ ସେ.ମି. ଦଉଡ଼ା ଦରକାର ହୁଏ । ଦଶ ମିଟର ଦୀର୍ଘ ଦଉଡ଼ାରୁ ୬ଟି ଗାଈ ପାଇଁ ପଘା ତିଆରି କଲା ପରେ ଆଉ କେତେ ଲମ୍ବ ଦଉଡ଼ା ବଳିବ ?

ଗୋଟିଏ ୧୧ମି. ୫୦ ସେ.ମି. ଲମ୍ବ ବିଶିଷ୍ଟ ବାଉଁଶକୁ କାଟି ଦୁଇଟି ସମାନ ଲମ୍ବର ବାଉଁଶରେ ପରିଣତ କରାଗଲା । ତେବେ ପ୍ରତ୍ୟେକ ଛୋଟ ବାଉଁଶର ଦୈର୍ଘ୍ୟ କେତେ ହେବ ?

୧୧ମି. ୫୦ ସେ.ମି. ଦୈର୍ଘ୍ୟର ବାଉଁଶକୁ ଦୁଇ ସମାନ ଭାଗ କରିବା ।

ପ୍ରତ୍ୟେକ ଛୋଟ ବାଉଁଶର ଦୈର୍ଘ୍ୟ ହେବ ୧୧ମି. ୫୦ ସେ.ମି. \div ୨

ଆସ ୧୧.ମି୫୦ ସେ.ମି. \div ୨ ନିର୍ଣ୍ଣୟ କରିବା ।

ପ୍ରଥମ ପ୍ରଶାଳା :

	୫	୭୫
	<hr style="border: 0.5px solid black;"/>	
	ମି.	ସେ.ମି.
୨	୧୧	୫୦
	୧୦	
	<hr style="border: 0.5px solid black;"/>	
	୧୫	
	<hr style="border: 0.5px solid black;"/>	
	୧୫	
	<hr style="border: 0.5px solid black;"/>	
	୧୦	
	<hr style="border: 0.5px solid black;"/>	
	୧୦	
	<hr style="border: 0.5px solid black;"/>	
	୦	

ଦ୍ୱିତୀୟ ପ୍ରଶାଳା :

$$\begin{aligned}
 ୧୧ମି. ୫୦ ସେ.ମି. &= ୧୧ମି. + ୫୦ ସେ.ମି. \\
 &= ୧୧୦୦ମି. + ୫୦ସେ.ମି. \\
 &= ୧୧୫୦ ସେ.ମି. \\
 ୧୧୫୦ ସେ.ମି. \div ୨ &= ୫୭୫ ସେ.ମି. \\
 &= ୫୦୦ ସେ.ମି. + ୭୫ସେ.ମି. \\
 &= ୫ମି. + ୭୫ ସେ.ମି. \\
 &= ୫ମି. ୭୫ ସେ.ମି.
 \end{aligned}$$

ଉଭୟ ପ୍ରଶାଳାରେ କ'ଣ ଭିନ୍ନତା ଅଛି ?


ଉଭୟ ପ୍ରଶାଳାରେ ଭାଗଫଳ ନିର୍ଣ୍ଣୟ କର ।



(କ) ୩୨ ମି. ୫୦ ସେ.ମି. \div ୫

(ଖ) ୬୯ ମି. ୩୦ ସେ.ମି. \div ୩





ଦୈର୍ଘ୍ୟ ମାପର ବିଭିନ୍ନ ଏକକଗୁଡ଼ିକୁ ଆମେ ପୂର୍ବ ଶ୍ରେଣୀରେ ଜାଣିଛେ ।

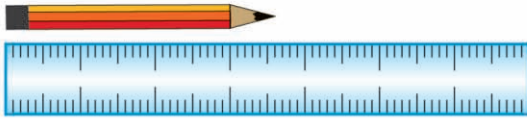
$$\text{ଯେପରି, } ୧ \text{ କିଲୋମିଟର} = ୧୦୦୦ \text{ ମିଟର}$$

$$୧ \text{ ମିଟର} = ୧୦୦ \text{ ସେଣ୍ଟିମିଟର}$$

ଏଠାରେ କିଲୋମିଟର ଏକକ ବଡ଼ ଓ ମିଟର ଏକକ ତା'ଠାରୁ ସାନ । ମିଟର ଏକକଠାରୁ ସେଣ୍ଟିମିଟର ଏକକ ଆହୁରି କମ୍ ସେହିପରି ଦୈର୍ଘ୍ୟମାପର ଆହୁରି ବିଭିନ୍ନ ଏକକ ଅଛି । ସେଗୁଡ଼ିକ ସଂପର୍କରେ ଜାଣିବା ।

ତୁମେ ବ୍ୟବହାର କରୁଥିବା ସବୁଠାରୁ ଛୋଟ ପେନ୍‌ସିଲର ଦୈର୍ଘ୍ୟ କେତେ ସେଣ୍ଟିମିଟର ହେବ ?.....

ଚିତ୍ର ଦେଖି କହ, ମହସିନା ବ୍ୟବହାର କରୁଥିବା ପେନ୍‌ସିଲର ଦୈର୍ଘ୍ୟ କେତେ ?



ପେନ୍‌ସିଲର ଦୈର୍ଘ୍ୟ
୩ ସେ.ମି.ରୁ ଅଧିକ ।



ପ୍ରତ୍ୟେକ ସେଣ୍ଟିମିଟରକୁ ଦଶ ସମାନ ଭାଗ କରାଯାଇଛି । ପ୍ରତ୍ୟେକ ଭାଗ ହେଉଛି ଏକ ସେଣ୍ଟିମିଟର ଦଶ ଭାଗରୁ ଭାଗେ ବା ଏକ-ଦଶାଂଶ । ସେଣ୍ଟିମିଟରର ୧୦ ସମାନ ଭାଗରୁ ଏକ ଭାଗକୁ ୧ ମିଲିମିଟର (୧ମି.ମି.) କୁହାଯାଏ ।

ତାହେଲେ ମହସିନାର ପେନ୍‌ସିଲର
ଦୈର୍ଘ୍ୟ ୩ ସେ.ମି. ୬ ମି.ମି.



$$୧ \text{ ମିଲିମିଟର} = \frac{୧}{୧୦} \text{ ସେଣ୍ଟିମିଟର ବା } ୦.୧ \text{ ସେ.ମି.}$$

ତୁମ ପାଇଁ କାମ

ତଳେ ଦିଆଯାଇଥିବା ରୁଲ୍‌ବାଡ଼ିର ଚିତ୍ରରେ ନିମ୍ନ ସୂଚନା ଅନୁଯାୟୀ ରଙ୍ଗ ଦିଅ (ରୁଲ୍‌ବାଡ଼ିଗୁଡ଼ିକର ଦୈର୍ଘ୍ୟ ମାପିବ ନାହିଁ) ।



- ଯେଉଁଗୁଡ଼ିକର ଦୈର୍ଘ୍ୟ ୧ ସେ.ମି.ରୁ କମ୍, ସେଗୁଡ଼ିକରେ ଲାଲ ରଙ୍ଗ ଦିଅ ।
- ଯେଉଁଗୁଡ଼ିକର ଦୈର୍ଘ୍ୟ ୧ ସେ.ମି.ରୁ ଅଧିକ କିନ୍ତୁ ୨ ସେ.ମି. ରୁ କମ୍, ସେଥିରେ କଳା ରଙ୍ଗ ଦିଅ ।
- ଯେଉଁଗୁଡ଼ିକର ଦୈର୍ଘ୍ୟ ୨ ସେ.ମି.ରୁ ଅଧିକ କିନ୍ତୁ ୩ ସେ.ମି.ରୁ କମ୍, ସେଗୁଡ଼ିକର ସବୁଜ ରଙ୍ଗ ଦିଅ ।
- ୩ ସେ.ମି. ଅଧିକ ଦୈର୍ଘ୍ୟ ବିଶିଷ୍ଟ ବାଡ଼ିରେ ରଙ୍ଗ ଦିଅନାହିଁ ।



- ଏବେ ସ୍କେଲ ବ୍ୟବହାର କରି ପ୍ରତ୍ୟେକ ରୁଲ୍‌ ବାଡ଼ିର ଦୈର୍ଘ୍ୟ ମାପ ତୁମେ ଠିକ୍ ଭାବରେ ରଙ୍ଗ ଦେଇଛି କି ନାହିଁ ଜାଣ ।



ମିଲିମିଟର ଏକକରେ ଥିବା ସଂଖ୍ୟାକୁ ସେଣ୍ଟିମିଟର ଏକକରେ ପ୍ରକାଶ କର ।

- (କ) ୫ ମିଲିମିଟର
- (ଖ) ୩ ମି.ମି.
- (ଗ) ୧୦ ମି.ମି.





ଦୈର୍ଘ୍ୟ ମାପର ଅନ୍ୟ ଏକକଗୁଡ଼ିକୁ ଜାଣ ।

୧୦ ମିଲିମିଟର (ମି.ମି.)	=	୧ ସେଣ୍ଟିମିଟର (ସେ.ମି.)
୧୦ ସେଣ୍ଟିମିଟର	=	୧ ଡେସିମିଟର (ଡେସି.ମି.)
୧୦ ଡେସିମିଟର	=	୧ ମିଟର (ମି.)
୧୦ ମିଟର	=	୧ ଡେକାମିଟର (ଡେକା ମି.)
୧୦ ଡେକାମିଟର	=	୧ ହେକ୍ଟୋମିଟର (ହେ.ମି.)
୧୦ ହେକ୍ଟୋମିଟର	=	୧ କିଲୋମିଟର (କି.ମି.)

ଉପର ସାରଣୀକୁ ଲକ୍ଷ୍ୟକଲେ ଜାଣିବା -

$$\begin{aligned}
 ୧ \text{ ମିଟର} &= ୧୦ \text{ ଡେସିମିଟର} \\
 &= ୧୦୦ \text{ ସେଣ୍ଟିମିଟର} \\
 &= ୧୦୦୦ \text{ ମିଲିମିଟର (କାହିଁକି କାରଣ କହ)}
 \end{aligned}$$

$$\begin{aligned}
 \text{ସେହିପରି } ୧ \text{ କିଲୋମିଟର} &= ୧୦ \text{ ହେକ୍ଟୋମିଟର} \\
 &= ୧୦୦ \text{ ଡେକାମିଟର} \\
 &= ୧୦୦୦ \text{ ମିଟର}
 \end{aligned}$$



ତଳ ଶୂନ୍ୟସ୍ଥାନଗୁଡ଼ିକରେ ଠିକ୍ ଉତ୍ତର ଲେଖ -

- | | |
|-------------------------------|-----------------------------|
| (କ) ୧ ମିଟର =ହେ.ମି. | (ଖ) ୧ କି.ମି. =ସେ.ମି. |
| (ଗ) ୧ ଡେକା. ମି. =ସେ.ମି. | (ଘ) ୧. ହେ.ମି. =ମି. |
| (ଙ) ୨୦ ମି. =ମି.ମି. | (ଚ) ୨୪ ସେ.ମି. =ମି.ମି. |

ଶିକ୍ଷକଙ୍କ ପାଇଁ ସୂଚନା : ଶିକ୍ଷକ ଏହିଭଳି ଅନେକ ପ୍ରଶ୍ନ ତିଆରି କରି ଦୈର୍ଘ୍ୟ ମାପର ଏକକ ପରିବର୍ତ୍ତନକୁ ଅଭ୍ୟାସ କରାଇବେ ।



୧. ତଳେ ଦିଆଯାଇଥିବା ଦୂରତାକୁ କେଉଁ ଏକକରେ ପ୍ରକାଶ କରାଯିବା ସୁବିଧାଜନକ ।
- କ) ସୁନ୍ଦରଗଡ଼ଠାରୁ କଟକର ଦୂରତା -
 - ଖ) ବଂଶଧାରା ନଦୀର ଦୈର୍ଘ୍ୟ -
 - ଗ) ତୁମ ଗଣିତ ଧାରା ବହିର ଦୈର୍ଘ୍ୟ -
 - ଘ) ଗୋଟିଏ କୁଅ ଦଉଡ଼ିର ଦୈର୍ଘ୍ୟ -
 - ଙ) ଗୋଟିଏ ଦିଆସିଲ୍ ଖୋଳର ଦୈର୍ଘ୍ୟ -



୨. ତଳ କୋଠାରେ ଥିବା ତଥ୍ୟକୁ ବ୍ୟବହାର କରି ନିମ୍ନରେ ଥିବା ପ୍ରଶ୍ନଗୁଡ଼ିକର ଉତ୍ତର ଲେଖ ।

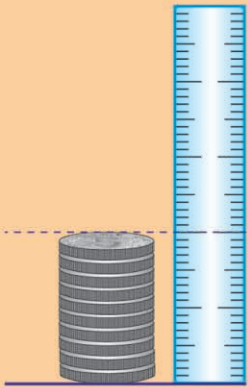
ଥାନରେ ଥିବା ପୁରା କପଡ଼ାର ଦୈର୍ଘ୍ୟ = ୩୦ ମି. ୫୦ ସେ.ମି.
 ଗୋଟିଏ କୋର୍ ଲାଗି ଆବଶ୍ୟକ କପଡ଼ା = ୨ମି. ୧୫ ସେ.ମି.
 ଗୋଟିଏ ପ୍ୟାଣ୍ଟ ଲାଗି ଆବଶ୍ୟକ କପଡ଼ା = ୧ ମି. ୨୦ ସେ.ମି.

- କ) କେବଳ ୮ଟି କୋର୍ ତିଆରି କଲାପରେ ପୁରା କପଡ଼ାରୁ କେତେ ବଳିବ ?
- ଖ) ୫ଟି କୋର୍ ଓ ୪ଟି ପ୍ୟାଣ୍ଟ ତିଆରି କରିବା ପାଇଁ କେତେ କପଡ଼ା ଆବଶ୍ୟକ ହେବ ?
- ଗ) ପୁରା କପଡ଼ାରୁ ୭ଟି ପ୍ୟାଣ୍ଟ ତିଆରି କରିବା ପାଇଁ କପଡ଼ା ନେଇଯିବା ପରେ ଆଉ କେତେ କପଡ଼ା ମିଳିବ ?
- ଘ) ପୁରା କପଡ଼ାକୁ ପାଞ୍ଚ ଜଣ ପିଲା ସମାନ ଭାଗରେ ବାଣ୍ଟି ନେଲେ । ପ୍ରତ୍ୟେକ କେତେ କପଡ଼ା ପାଇବେ ? ସେତିକି କପଡ଼ାରେ ଜଣେ ପିଲା ପାଇଁ ୨ଟି କୋର୍ ଓ ଗୋଟିଏ ପ୍ୟାଣ୍ଟ ତିଆରି ହେବା ପରେ କେତେ କପଡ଼ା ବଳିପଡ଼ିବ ?
୩. ଦୈର୍ଘ୍ୟମାପର ବିଭିନ୍ନ ଏକକ ଗୁଡ଼ିକର ନାମ ଲେଖ । ତୁମେ ଲେଖୁଥିବା ଏକକ ଗୁଡ଼ିକ ମଧ୍ୟରୁ କେଉଁ ଏକକଟି ବଡ଼ ଓ କେଉଁଟି ସାନ ?

ତୁମ ପାଇଁ କାମ



- ୫ ଟଙ୍କା ମୁଦ୍ରାଟିଏ ନିଅ ।
 - ୫ ଟଙ୍କା ମୁଦ୍ରାଟିର ମୋଟେଇ କେତେ ହେବ ମାପି ପାରିବ କି ?
 - କେଉଁ ଏକକରେ ଏହାର ମୋଟେଇ ପ୍ରକାଶ କରିପାରିବ ?
 - ତୁମେ ନେଇଥିବା ମୁଦ୍ରା ଭଳି ଦଶଟି ମୁଦ୍ରା ସଂଗ୍ରହ କର ।
 - ଚିତ୍ରରେ ଦେଖାଯାଇଥିବା ଭଳି ୧୦ ଟି ୫ ଟଙ୍କା ମୁଦ୍ରାକୁ ଉପରକୁ ଉପର ଥାକ କରି ରଖ ।
 - ସ୍କେଲ ସାହାଯ୍ୟରେ ମୁଦ୍ରା ଥାକର ଉଚ୍ଚତା ମାପ । କେତେ ହେଲା ଲେଖ ।
- ଏବେ ଆମେ ୧୦ଟି ୫ ଟଙ୍କା ମୁଦ୍ରାର ଉଚ୍ଚତା ପାଇଗଲେ ।
- ଗୋଟିଏ ମୁଦ୍ରାର ଉଚ୍ଚତା ବା ମୋଟେଇ କିପରି ପାଇବ ?
- ଏହି ଉପାୟରେ ୧ ଟଙ୍କା ମୁଦ୍ରା, ଦୁଇ ଟଙ୍କା ମୁଦ୍ରାର ମୋଟେଇର ଦୈର୍ଘ୍ୟ ନିର୍ଣ୍ଣୟ କର ।



ବିଦ୍ୟାଳୟର ବାର୍ଷିକ ଉତ୍ସବ ପାଇଁ ଭୋଜିର ଦାୟିତ୍ୱ ଦିଆଯାଇଥାଏ ଚତୁର୍ଥ ଶ୍ରେଣୀ ପିଲାଙ୍କୁ । ସେମାନେ ବଜାରରୁ ଜିନିଷ କିଣିଲେ ବିଦ୍ୟାଳୟକୁ ଆଣିଲେ । ଭୋଜି ପାଇଁ ଆସିଥିବା ଜିନିଷ ସଂପର୍କରେ କେତେକ ସୂଚନା ଦିଆଯାଇଛି । ସେଗୁଡ଼ିକୁ ପଢ଼ି ପ୍ରଶ୍ନଗୁଡ଼ିକର ଉତ୍ତର ଲେଖ -

- ଅଣାଯାଇଥିବା ହରଡ଼ ଡାଲିର ପରିମାଣ ୧୪କି.ଗ୍ରା. ୭୦୦ ଗ୍ରାମ୍ ।
- କିଣା ଯାଇଥିବା ଗଜନ ଓଜନ ଡାଲିର ଓଜନର ୪ ଗୁଣ ।
- ୨୫ କି.ଗ୍ରା. ୫୦୦ ଗ୍ରା ଓଜନର କୋବି, ୨୫ କି.ଗ୍ରା. ୩୫୦ ଗ୍ରା. ଓଜନରେ ଆଲୁ ଓ ୧୩ କି.ଗ୍ରା ୫୦୦ ଗ୍ରା. ଓଜନର ବାଇଗଣ କିଣାଯାଇଥିଲା ।
- ୯୦ କିଲୋଗ୍ରାମ ଓଜନର କାଠ କିଣାଯାଇଥିଲା ।



ଏବେ ହିସାବ କର :

- କେତେ ଓଜନର ଚାଉଳ କିଣାଯାଇଥିଲା ?

କିଣାଯାଇଥିବା ଚାଉଳର ଓଜନର ପରିମାଣ ଭାଲିର ଓଜନର ପରିମାଣର ୪ ଗୁଣ ।

ଭାଲିର ଓଜନର ପରିମାଣ ୧୪ କି.ଗ୍ରା ୭୦୦ ଗ୍ରା.ହେଲେ, ଚାଉଳର ଓଜନ କେତେ ହେବ ?

$$୧୪ \text{ କି.ଗ୍ରା } ୭୦୦ \text{ ଗ୍ରାମ} \times ୪ = \dots\dots\dots$$

ଏଠାରେ ଗୁଣଫଳ ନିର୍ଣ୍ଣୟ କରିବା ପାଇଁ ଦୁଇଟି ପ୍ରଣାଳୀ ବ୍ୟବହାର କରାଯାଇଛି । ସେଗୁଡ଼ିକୁ ଲକ୍ଷ୍ୟ କର -

ପ୍ରଥମ ପ୍ରଣାଳୀ :

କି.ଗ୍ରା	ଗ୍ରା.
9	
୧୪	୭୦୦
×	୪
୫୮ ୨ ୮୦୦ ଗ୍ରା	

ଏଠାରେ ୭୦୦ ଗ୍ରା.କୁ ୪ ସହ ଗୁଣାଯାଇଛି ।
 $୭୦୦ \text{ ଗ୍ରା} \times ୪ = ୨୮୦୦ \text{ ଗ୍ରା} = ୨ \text{ କି.ଗ୍ରା } ୮୦୦ \text{ ଗ୍ରା}$
 ଗ୍ରାମ ସ୍ତମ୍ଭରେ ୮୦୦ ଗ୍ରା. ରଖାଯାଇ ୨ କି.ଗ୍ରାକୁ କି.ଗ୍ରା ସ୍ତମ୍ଭରେ ମିଶା ଯାଇଛି ।
 ୧୪ କି.ଗ୍ରାକୁ ୪ ସହ ଗୁଣନ କରାଯାଇଛି ।
 $୧୪ \text{ କି.ଗ୍ରା} \times ୪ = ୫୬ \text{ କି.ଗ୍ରା}$
 ୫୬ କି. ଗ୍ରା ସହ ଗ୍ରାମ ସ୍ତମ୍ଭରୁ ଆସିଥିବା ୨ କି.ଗ୍ରା.କୁ ଯୋଗ କରାଯାଇ ୫୮ କି.ଗ୍ରା ଲେଖାଯାଇଛି ।

ଦ୍ୱିତୀୟ ପ୍ରଣାଳୀ :

$$\begin{aligned}
 & ୧୪ \text{ କି.ଗ୍ରା } ୭୦୦ \text{ ଗ୍ରା.} \times ୪ \\
 & ୧୪ \text{ କି.ଗ୍ରା. } ୭୦୦ \text{ ଗ୍ରା} = ୧୪ \text{ କି.ଗ୍ରା} + ୭୦୦ \text{ ଗ୍ରାମ} \\
 & \hspace{10em} = ୧୪୦୦୦ \text{ ଗ୍ରା} + ୭୦୦ \text{ ଗ୍ରା.} \\
 & \hspace{10em} = ୧୪୭୦୦ \text{ ଗ୍ରା.} \\
 & ୧୪୭୦୦ \text{ ଗ୍ରା} \times ୪ = ୫୮୮୦୦ \text{ ଗ୍ରା.} \\
 & ୫୮୮୦୦ \text{ ଗ୍ରା} = ୫୮୦୦୦ \text{ ଗ୍ରା} + ୮୦୦ \text{ ଗ୍ରା.} \\
 & \hspace{10em} = ୫୮ \text{ କି.ଗ୍ରା} + ୮୦୦ \text{ ଗ୍ରା.} \\
 & \hspace{10em} = ୫୮ \text{ କି.ଗ୍ରା } ୮୦୦ \text{ ଗ୍ରା.}
 \end{aligned}$$

∴ ୫୮ କି.ଗ୍ରା. ୮୦୦ ଗ୍ରା. ଓଜନର ଚାଉଳ କିଣାଯାଇଥିଲା ।



ଏବେ ହିସାବ କରି କହ,

- ମୋଟ କେତେ ଓଜନର ପରିବା ଆସିଥିଲା ?
- ଭାଲି, ଚାଉଳ ଓ ପରିବା ଓ କାଠର ମୋଟ ଓଜନ କେତେ ?
- କିଣାଯାଇଥିବା ମୋଟ ଜିନିଷକୁ ତିନି ସମାନ ଭାଗ କରାଯାଇ ତିନୋଟି ଗ୍ରୁଲିରେ ଅଣାଗଲା । ପ୍ରତ୍ୟେକ ଗ୍ରୁଲିରେ କେତେ ଓଜନର ଜିନିଷ ଅଣାଗଲା ?





ଦୈନିକ ମାପରେ ଯେପରି ୧ ମିଟରରୁ କମ୍ ଦୈର୍ଘ୍ୟକୁ ଛୋଟ ଛୋଟ ଏକକରେ ପ୍ରକାଶ କରାଯାଏ, ଓଜନ ପରିମାଣକୁ ପ୍ରକାଶ କରିବା ପାଇଁ ସେହିଭଳି କେତେକ ଛୋଟଛୋଟ ଏକକ ଅଛି । ଆସ, ସେଗୁଡ଼ିକୁ ଜାଣିବା -


- ୧ କିଲୋଗ୍ରାମ = ୧୦ ହେକ୍ଟୋଗ୍ରାମ
- ୧ ହେକ୍ଟୋଗ୍ରାମ = ୧୦ ଡେକାଗ୍ରାମ
- ୧ ଡେକାଗ୍ରାମ = ୧୦ ଗ୍ରାମ
- ୧ ଗ୍ରାମ = ୧୦ ଡେସି.ଗ୍ରା
- ୧ ଡେସି.ଗ୍ରା = ୧୦ ସେଣ୍ଟିଗ୍ରାମ
- ୧ ସେଣ୍ଟିଗ୍ରାମ = ୧୦ ମିଲିଗ୍ରାମ

୧୦୦ କିଲୋଗ୍ରାମ ଓଜନକୁ
୧ କିଣ୍ଟାଲ କୁହାଯାଏ ।



ସାଧାରଣତଃ ଦୈନନ୍ଦିନ ଜୀବନରେ ଆମେ କିଲୋଗ୍ରାମ, ଗ୍ରାମ୍ ଓ ମିଲିଗ୍ରାମ ଏକକରେ ଜିନିଷଗୁଡ଼ିକର ଓଜନକୁ ପ୍ରକାଶ କରିଥାଉ ।

୧ କି.ଗ୍ରା = ୧୦୦୦ ଗ୍ରାମ ବା ୧୦୦୦ ଗ୍ରା = ୧ କି.ଗ୍ରା
 ୧ ଗ୍ରାମ = ୧୦୦୦ ମିଲିଗ୍ରାମ




୧୦୦ ଗ୍ରା ହେଉଛି ୧ କିଲୋଗ୍ରାମର ୧୦ ସମାନ ଭାଗରୁ ଭାଗେ ବା ୧ କି.ଗ୍ରା $\frac{୧}{୧୦}$
 ୧୦୦ ଗ୍ରା = $\frac{୧}{୧୦}$ କି.ଗ୍ରା.
 ସେହିଭଳି ୨୦୦ ଗ୍ରା, ୫୦୦ ଗ୍ରା, ୭୫୦ ଗ୍ରା.କୁ କି.ଗ୍ରା ଏକକରେ ପ୍ରକାଶ କର ।

ଗ୍ରାହକ - ମୁଦିଟିର ଓଜନ କେତେ ହେଲା ?
 ଦୋକାନୀ- ୩ ଗ୍ରାମ ୫୦୦ମିଲିଗ୍ରାମ
 ଗ୍ରାହକ - ସୁନାର ଦର କ'ଣ ଅଛି ?
 ଦୋକାନୀ- ସୁନା ଦର ଗ୍ରାମ ପିଛା ୧୮୦୦ ଟଙ୍କା ଓ ସୁନା ଅଳଙ୍କାର ତିଆରି ପାଇଁ ୧ ଗ୍ରାମକୁ ଗଢ଼ା ମଜୁରୀ ୩୦୦ ଟଙ୍କା ଏମିତି ଗ୍ରାମ ପ୍ରତି ୧୮୦୦ଟଙ୍କା + ୩୦୦ = ୨୧୦୦ ଟଙ୍କା

ଏହିଭଳି ୧ ଗ୍ରାମ ଓଜନର ସୁନାଗହଣାକୁ ୨୧୦୦ ଟଙ୍କା ଦେବାକୁ ପଡ଼ିବ । ଦୋକାନୀମାନେ ଗଢ଼ାମଜୁରୀକୁ କମ୍ ବେଶୀ କରିପାରନ୍ତି । ଦୋକାନୀଙ୍କ ସହ ଦର ମୁଲତଲ କଲେ ସେ ଗଢ଼ା ମଜୁରୀରେ କମ୍ ଦାମ୍ ନେଇପାରିବେ । ସୁନାର ଓଜନକୁ ସାଧାରଣତଃ ଗ୍ରାମାଞ୍ଚଳରେ 'ଭରି' ଏକକରେ ପ୍ରକାଶ କରିଥାଆନ୍ତି । ୧ ଭରି କହିଲେ ପ୍ରାୟ ୧୦ ଗ୍ରାମକୁ ବୁଝାଇଥାଏ । ଏବେ ଆଉ ଭରି ଏକକର ପ୍ରଚଳନ ନାହିଁ ।

ସୁନାର ଦାମ୍ ବହୁତ ଅଧିକ ହୋଇଥିବାରୁ ଆମେ ଆବଶ୍ୟକ ବେଳେ କମ୍ ପରିମାଣର ସୁନା କିଣିଥାଉ । କମ୍ ପରିମାଣର ସୁନା ଓଜନ କରିବା ପାଇଁ ସାଧାରଣ ନିକିତି ବ୍ୟବହାର କରାନଯାଇ ଭୌତିକ ନିକିତି ବ୍ୟବହାର କରାଯାଇଥାଏ କାହିଁକି ?

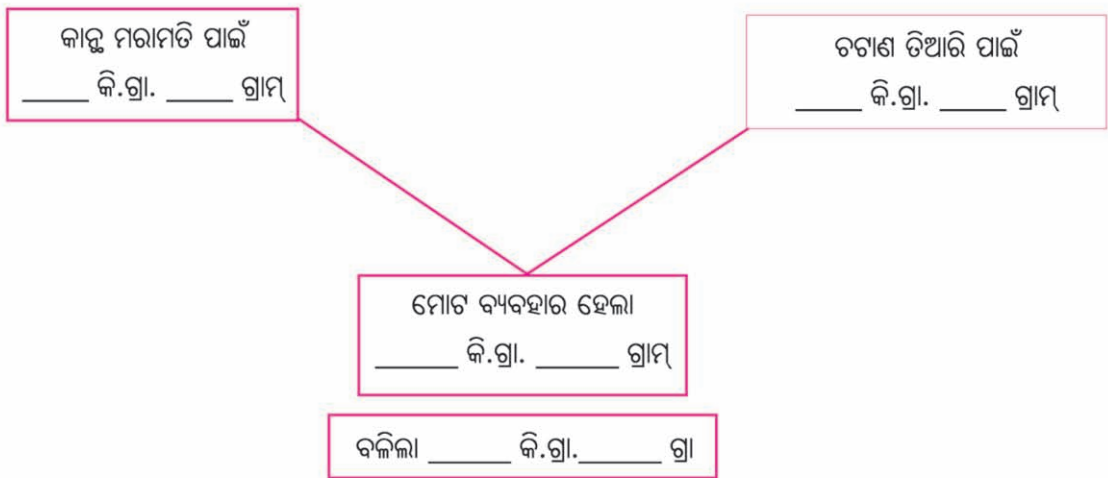




୧. ନିମ୍ନଲିଖିତ ଓଜନକୁ କେଉଁ ମାପ ଏକକରେ ପ୍ରକାଶ କରାଯିବ ଲେଖ ।

- (କ) ଗୋଟିଏ ସେଓର ଓଜନ _____
- (ଖ) ଗୋଟିଏ ସିମେଣ୍ଟ ବସ୍ତାର ଓଜନ _____
- (ଗ) ଗୋଟିଏ ପାଉଁରୁଟିର ଓଜନ _____
- (ଘ) ଗୋଟିଏ ଧାନବସ୍ତାର ଓଜନ _____
- (ଙ) ଏକ ଗ୍ରାମରୁ କମ୍ ଓଜନ ବିଶିଷ୍ଟ ମୁଦିର ଓଜନ _____

୨. ଗୋଟିଏ ବସ୍ତାରେ ୫୦ କିଲୋଗ୍ରାମ୍ ସିମେଣ୍ଟ ଥିଲା । ଘରର କାନ୍ଥ ମରାମତି ପାଇଁ ୨୨ କି.ଗ୍ରା. ୪୦୦ ଗ୍ରା. ଓ ଚଟାଣ ତିଆରି ପାଇଁ ୧୬ କି.ଗ୍ରା. ୭୦୦ ଗ୍ରା. ସିମେଣ୍ଟ ଦରକାର ହେଲା । ଆଉ କେତେ ସିମେଣ୍ଟ ବଳିଲା ?

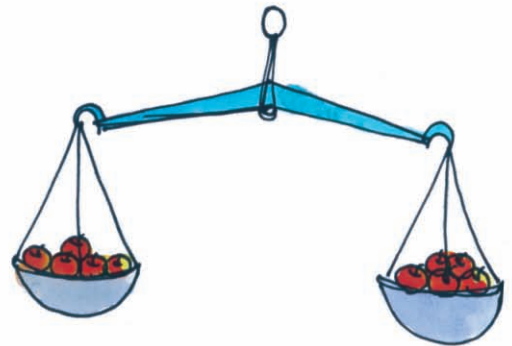


୩. ଗହମ ଥିବା ଗୋଟିଏ ବ୍ୟାଗର ଓଜନ ୧୭ କି.ଗ୍ରା. ୩୦୦ ଗ୍ରା. । ଯଦି ବ୍ୟାଗଟିର ଓଜନ ୬୦୦ ଗ୍ରା. ହୁଏ, ତେବେ

- କ) ଗହମ ଥିବା ୫ଟି ବ୍ୟାଗର ଓଜନ କେତେ ?
- ଖ) ୫ଟି ବ୍ୟାଗରେ ଥିବା କେବଳ ଗହମର ଓଜନ କେତେ ?

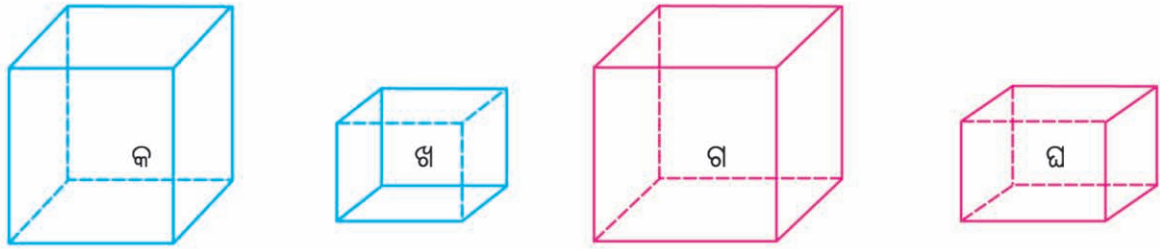
୪. ଦୁଇଟି ବସ୍ତାରେ ଯଥାକ୍ରମେ ୨୦ କି.ଗ୍ରା. ୫୦୦ ଗ୍ରା. ଓ ୧୫ କି.ଗ୍ରା ଚାଉଳ ଥିଲା । ଉଭୟ ବସ୍ତାର ଚାଉଳକୁ ଏକାଠି କରି ୫ ଜଣ ଲୋକଙ୍କ ମଧ୍ୟରେ ସମାନ ଭାଗ କରାଗଲା । ପ୍ରତ୍ୟେକ ବ୍ୟକ୍ତି କେତେ ଚାଉଳ ପାଇଲେ ?

୫. ଗୋଟିଏ ତରାଜୁର ବାମ ପାଖ ପଲ୍ଲୀରେ ୧୭ କି.ଗ୍ରା ୮୦୦ ଗ୍ରା. ଓଜନର ଫଳ ଓ ଡାହାଣ ପାଖ ପଲ୍ଲୀରେ ୧୮ କି.ଗ୍ରା. ୬୦୦ଗ୍ରା. ଓଜନର ଫଳ ଅଛି ।





- କ) ଡାହାଣ ପାଖ ପଲ୍ଲୀରେ ବାମ ପାଖ ପଲ୍ଲୀ ଅପେକ୍ଷା କେତେ କମ୍ ଓଜନର ଫଳ ଅଛି ?
- ଖ) ବାମ ପାଖ ପଲ୍ଲୀରୁ କେତେ ଓଜନର ଫଳ କାଢ଼ି ଡାହାଣ ପାଖ ପଲ୍ଲୀରେ ରଖିଲେ ଉଭୟ ପଟ୍ ଫଳର ଓଜନ ସମାନ ହେବ ?
- ଗ) ଉଭୟ ପଟ୍ ପଲ୍ଲୀରେ ଥିବା ଫଳର ଓଜନ ସମାନ ହେଲେ ପ୍ରତ୍ୟେକ ପଲ୍ଲୀରେ କେତେ ଓଜନର ଫଳ ରହିବ ?
୬. ଗୋଟିଏ ବ୍ୟାଗ୍‌ରେ ୪୩ କି.ଗ୍ରା. ୨୦୦ ଗ୍ରା. ଗହମ ଥିଲା । ଆଉ ଗୋଟିଏ ବ୍ୟାଗ୍‌ରେ ପ୍ରଥମ ବ୍ୟାଗ୍ ଅପେକ୍ଷା ୨୦୦ ଗ୍ରା. ଅଧିକ ଗହମ ଥିଲା । ଉଭୟ ବ୍ୟାଗ୍‌ରେ ମୋଟ କେତେ ଗହମ ଥିଲା ?
- ୭.



- କ) 'କ' ବସ୍ତୁର ଓଜନ 'ଖ' ବସ୍ତୁର ଓଜନର ୪ ଗୁଣ । 'କ' ଓ 'ଖ' ବସ୍ତୁର ଓଜନର ସମଷ୍ଟି ୫୦୦ ଗ୍ରା. ହେଲେ, 'କ' ବସ୍ତୁର ଓଜନ କେତେ ? 'ଖ' ବସ୍ତୁର ଓଜନ କେତେ ?
- ଖ) 'ଗ' ବସ୍ତୁର ଓଜନ 'ଘ'ର ଓଜନର ଦୁଇ ଗୁଣଠାରୁ ୧୦୦ ଗ୍ରାମ ଅଧିକ ? 'ଗ' ଓ 'ଘ' ବସ୍ତୁର ଓଜନର ସମଷ୍ଟି ୨୦୦ ଗ୍ରା. । ତେବେ 'ଗ' ବସ୍ତୁର ଓଜନ କେତେ ? 'ଘ' ବସ୍ତୁର ଓଜନ କେତେ ?
୮. ତଳେ ଥିବା ପ୍ୟାକେଟ୍‌ରେ କେତେ ଓଜନର କେଉଁ ଜିନିଷ ଅଛି ଲେଖାଯାଇଛି । ସେଗୁଡ଼ିକ ଦେଖି ଓ ତଳ ପ୍ରଶ୍ନଗୁଡ଼ିକର ଉତ୍ତର ଦିଅ ।



୨ କି.ଗ୍ରା. ୨୦୦ ଗ୍ରା.



୧ କି.ଗ୍ରା. ୮୦୦ ଗ୍ରା.



୧ କି.ଗ୍ରା. ୪୦୦ ଗ୍ରା.



୧ କି.ଗ୍ରା. ୨୦୦ ଗ୍ରା.



୧ କି.ଗ୍ରା. ୫୦୦ ଗ୍ରା.

- କ) ଦୁଇଟି ଚାଉଳ ପ୍ୟାକେଟ୍ ଓ ଗୋଟିଏ ମୁଗ ପ୍ୟାକେଟ୍‌ର ମୋଟ ଓଜନ କେତେ ?
- ଖ) ଗୋଟିଏ ଗହମ ପ୍ୟାକେଟ୍ ଓ ଗୋଟିଏ ମୁଗ ପ୍ୟାକେଟ୍‌ର ମୋଟ ଓଜନର ଅଧା କେତେ ?
- ଗ) ଗହମ, ମାଣ୍ଡିଆ ଓ ବାଜରା ପ୍ୟାକେଟ୍‌ର ମୋଟ ଓଜନ, ଚାଉଳ ଓ ମୁଗ ପ୍ୟାକେଟ୍‌ର ମୋଟ ଓଜନଠାରୁ କେତେ ଅଧିକ ?
- ଘ) ୫ଟି ମାଣ୍ଡିଆ ପ୍ୟାକେଟ୍‌ର ଓଜନ କେତୋଟି ବାଜରା ପ୍ୟାକେଟ୍‌ର ଓଜନ ସହ ସମାନ ?
- ଙ) ୩ ପ୍ୟାକେଟ୍ ମୁଗ ଓ ଗୋଟିଏ ପ୍ୟାକେଟ୍ ଗହମର ମୋଟ ଓଜନ କେତେ ?






ବାର୍ଷିକ ଉତ୍ପାଦର ଆୟବ୍ୟୟ ହିସାବ ଚାଲିଥାଏ । ପିଲାମାନଙ୍କୁ ପ୍ରଧାନ ଶିକ୍ଷକ ପଢ଼ାରିଲେ - ଏହି ଉତ୍ପାଦ ପାଇଁ କେଉଁ ସବୁ ତରଳ ପଦାର୍ଥ କିଣାଯାଇଥିଲା ? ପ୍ରଶ୍ନ ଶୁଣି ଲିଜା ଠିଆ ହୋଇ କିଣାଯାଇଥିବା ତରଳ ପଦାର୍ଥ ତାଲିକାକୁ ପଢ଼ିଲା ।

କିନିଷ୍ଟର ନାମ	ପରିମାଣ
ସୋରିଷ ତେଲ	୫ଲି. ୨୫୦ ମି.ଲି.
ବାଦାମ ତେଲ	୩ଲି.
ଡାଲଡ଼ା ଘିଅ	୨ଲି. ୫୫୦ ମି.ଲି.
ଗୁଆ ଘିଅ	୪୭୫ ମି.ଲି.
କ୍ଷୀର	୨୦ ଲି. ୫୦୦ ମି.ଲି.
କିରୋସିନି ତେଲ	୧୫ଲି. ୨୫୦ ମି.ଲି.

- ମୋଟ ପରିମାଣ କେତେ ନିର୍ଣ୍ଣୟ କର ।
- ସୋରିଷ ତେଲର ପରିମାଣ ଡାଲଡ଼ା ଘିଅର ପରିମାଣଠାରୁ କେତେ ଅଧିକ ?
ତରଳ ପଦାର୍ଥର ପରିମାଣକୁ ଲିଟର ଓ ମିଲି ଲିଟର ଏକକରେ ପ୍ରକାଶ କରାଯାଇଥାଏ । ୧ ଲିଟର = ୧୦୦୦ ମିଲି ଲିଟର ଲକ୍ଷ୍ୟ କର, ୧୦୦୦ ମିଲିଲିଟର ହେଉଛି ୧ ଲିଟରର ୧୦ ସମାନ ଭାଗରୁ ୧ ଏକ ଭାଗ, ତେଣୁ ୧୦୦ ମି.ଲି. = $\frac{୧}{୧୦}$ ଲି. ସେହିପରି ୨୦୦ ମି.ଲି. = $\frac{୨}{୧୦}$ ଲି.

 ୪୦୦ ମି.ଲି., ୫୦୦ ମି.ଲି., ୨୫୦ ମି.ଲି. ୯୦୦ ମି.ଲି. କୁ ଲିଟର ଏକକରେ ପ୍ରକାଶ କରି ଲେଖ ।

ଦୈନିକ୍ୟମାପ ଓ ଓଜନ ମାପରେ ଯେପରି ଗୁଣନ ଓ ହରଣ ପ୍ରକ୍ରିୟା କରାଯାଇଥିଲା, ତରଳ ପଦାର୍ଥର ପରିମାଣରେ ସେହିପରି ହିସାବ କରାଯାଏ । ଆସ କେତୋଟି ଉଦାହରଣରୁ ସେଗୁଡ଼ିକୁ ବୁଝିବା -

ଉଦାହରଣ - ୧

ଗୋଟିଏ ମାଠିଆରେ ୧୨ ଲି. ୩୫୦ ମି.ଲି. ପାଣି ଧରେ । ପାଞ୍ଚଟି ଶ୍ରେଣୀରେ ପାଣି ରଖିବା ପାଇଁ ବିଦ୍ୟାଳୟରେ ୫ଟି ମାଠିଆ କିଣା ହେଲା । କେତେ ପରିମାଣର ପାଣି ଅଣାଗଲେ ୫ଟି ଯାକ ମାଠିଆ ଜଳ ପୂର୍ଣ୍ଣ ହେବ ?

ସମାଧାନ -

ଗୋଟିଏ ମାଠିଆରେ ଧରୁଥିବା ପାଣିର ପରିମାଣ = ୧୨ଲି. ୩୫୦ମି.ଲି.
 ପାଞ୍ଚଟି ମାଠିଆରେ ଧରୁଥିବା ପାଣିର ପରିମାଣ = ୧୨ଲି. ୩୫୦ ମି.ଲି. ର ୫ ଗୁଣ

ଲକ୍ଷ୍ୟ କର -

$$\begin{array}{r}
 \text{ଲି.} \quad \text{ମି.ଲି.} \\
 \textcircled{୧} \\
 ୧୨ \quad ୩୫୦ \\
 \times \quad ୫ \\
 \hline
 ୬୧ \quad \textcircled{୧} ୭୫୦
 \end{array}$$

$$\begin{aligned}
 ୩୫୦ \text{ ମି.ଲି.} \times ୫ &= ୧୭୫୦ \text{ ମି.ଲି.} \\
 &= ୧ \text{ ଲି. } ୭୫୦ \text{ ମି.ଲି.}
 \end{aligned}$$

ଏଠାରେ ମି.ଲି. ସ୍ତମ୍ଭରେ ୭୫୦ ମି.ଲି. ରହିବ ଓ ୧ ଲି.କୁ ଲିଟର ସ୍ତମ୍ଭକୁ ନେଇ ସେଠାରେ ଯୋଗ କରାଯିବ ।





୧୨ ଲି. ର ୫ ଗୁଣ = ୬୦ ଲିଟର

ମି.ଲି. ସ୍ତମ୍ଭରୁ ଆସିଥିବା ୧ ଲିଟର ମିଶି, ୬୧ ଲିଟର ହେଲା ।



ଅନ୍ୟ କେଉଁ ଉପାୟରେ ତୁମେ ୧୨ ଲି. ୩୫୦ ମି.ଲି. × ୫ ର ଉତ୍ତର ନିର୍ଣ୍ଣୟ କରିପାରିବ କି ? ଚେଷ୍ଟା କରି ଦେଖ ।

ବାର୍ଷିକ ଉତ୍ସବ ପାଇଁ ଆସିଥିବା ୧୫ ଲି. ୬୫୦ ମି.ଲି. କିରୋସିନି ତେଲକୁ ୯ଟି ପେଟ୍ରୋଲ୍ ଲାଇଟ୍ରେ ସମାନ ଭାବରେ ଭର୍ତ୍ତି କରାଗଲା । ପ୍ରତ୍ୟେକ ପେଟ୍ରୋଲ୍ ଲାଇଟ୍ରେ କେତେ ପରିମାଣର କିରୋସିନି ତେଲ ଭର୍ତ୍ତି ହେଲା ?

ଏହାର ଉତ୍ତର ନିର୍ଣ୍ଣୟ କରିବା ପାଇଁ ତଳ ପ୍ରଶ୍ନଗୁଡ଼ିକର ଉତ୍ତର କ'ଣ ହେବ ଲେଖ ।

- କେତେ ପରିମାଣର କିରୋସିନି ତେଲ କିଣାଯାଇ ଥିଲା ?
- କେତୋଟି ପେଟ୍ରୋଲ୍ ଲାଇଟ୍ରେ ତାହାକୁ ସମାନ ଭାବରେ ବଣ୍ଟାଗଲା ? ପ୍ରତ୍ୟେକ ଲାଇଟ୍ରେ ଭର୍ତ୍ତି ହୋଇଥିବା ତେଲର ପରିମାଣ ଜାଣିବା ପାଇଁ କ'ଣ କରିବାକୁ ହେବ ?

ଆସ ଦେଖିବା, ୧୫ ଲି. ୬୫୦ ମି.ଲି.ରେ ୯ ଭାଗ କଲେ ଭାଗଫଳ କେତେ ହେଉଛି = ୦ ।

$$\begin{array}{r}
 ୧୫. ୬୫୦ \\
 ୯ \overline{) ୧୫. ୬୫୦} \\
 \underline{୯} \\
 ୬ \\
 \underline{୬} \\
 ୫୦ \\
 \underline{୫୪} \\
 ୪୫ \\
 \underline{୪୫} \\
 ୦
 \end{array}$$

ଆମେ ପାଇଲେ ୧୫ ଲି ୬୫୦ ମି.ଲି. ÷ ୯ = ୧ ଲି ୬୫୦ ମି.ଲି.

ଅର୍ଥାତ୍, ପ୍ରତ୍ୟେକ ଲାଇଟ୍ରେ ୧ ଲି. ୬୫୦ ମି.ଲି. କିରୋସିନି ତେଲ ଭର୍ତ୍ତି ହୋଇଥିଲା ।

ଅନ୍ୟ କେଉଁ ପ୍ରଣାଳୀରେ ଏହି ହରଣ ପ୍ରକ୍ରିୟାର ସମାଧାନ କରିହେବ । ଚେଷ୍ଟା କରି ଦେଖ ।



ତଳ ପ୍ରଶ୍ନର ଉତ୍ତର ଲେଖ -

୧. ୫ ଲିଟର ପେଟ୍ରୋଲ୍‌କୁ ୪ ଜଣ ସମାନ ଭାଗରେ ବାଣ୍ଟିନେଲେ, ଜଣକା କେତେ ପରିମାଣର ପେଟ୍ରୋଲ୍ ନେବେ ?
୨. ଗୋଟିଏ ପରିବାରରେ ଦୈନିକ ୫୦୦ ମି.ଲି. ପରିମାଣ ବିଶିଷ୍ଟ ୩ଟି ଲେଖାଏଁ କ୍ଷୀର ପ୍ୟାକେଟ୍ କିଣନ୍ତି । ୨୦୧୧ ମସିହା ଜୁଲାଇ ମାସରେ ସେ ପରିବାର କେତେ ପରିମାଣର କ୍ଷୀର କିଣିଛନ୍ତି ।

ଶିକ୍ଷକଙ୍କ ପାଇଁ ସୂଚନା : ଦୂରତା ମାପ, ଓଜନ ମାପ ଓ ତରଳ ପଦାର୍ଥ ମାପ ସମ୍ବନ୍ଧୀୟ ଋଷି ଗାଣିତିକ ପ୍ରକ୍ରିୟାକୁ ନେଇ ଶିକ୍ଷକ ଅନେକଗୁଡ଼ିଏ ପ୍ରଶ୍ନ ତିଆରି କରି ସେଗୁଡ଼ିକର ସମାଧାନ କରାଇବେ ।



ତୁମ ପାଇଁ କାମ



- ତୁମ ବାପା, ମା କିମ୍ବା ପରିବାରର ସଦସ୍ୟଙ୍କୁ ପଛରି ନିମ୍ନ ସାରଣୀ ପୂରଣ କର ।
- ତୁମ ଘରେ ଥିବା ସୋରିଷ ତେଲ (ପ୍ୟାକେଟ), ନଡ଼ିଆତେଲ, ସାମ୍ପୋ, ଔଷଧ ବୋତଲଗୁଡ଼ିକୁ ଦେଖ । ସେଗୁଡ଼ିକରେ କେତେ ପରିମାଣର ତରଳ ପଦାର୍ଥ ଅଛି ତାହା ଲେଖାଯାଇଛି । ତାକୁ ଲକ୍ଷ୍ୟ କରି ସାରଣୀ ପୂରଣ କର ।

ଜିନିଷ	କମ୍ପାନୀର ନାମ	ପରିମାଣ
ସୋରିଷ ତେଲ		
ନଡ଼ିଆ ତେଲ		
ସାମ୍ପୋ		
ଔଷଧ		
ପାଣିବୋତଲ		
ଅନ୍ୟାନ୍ୟ ତରଳ ପଦାର୍ଥ		



୧. ଶୁଣ ଓ ମନେ ମନେ ହିସାବ କରି ଉତ୍ତର ଦିଅ ।
- କ) ଗୋଟିଏ ଟିଣରେ ୬୦ ଲିଟର କିରାସିନି ତେଲ ଥିଲା । ଦ୍ଵିତୀୟ ଟିଣରେ ପ୍ରଥମ ଟିଣ ଅପେକ୍ଷା ୧୨ ଲିଟର କମ୍ ତେଲ ଥିଲା । ଦ୍ଵିତୀୟ ଟିଣରେ କେତେ ତେଲ ଥିଲା ?
- ଖ) ଜଣେ ଦୋକାନୀ ପାଖରେ ୨୦ ଲିଟର ୫୫୦ ଟି.ଲି. ନଡ଼ିଆ ତେଲ ଥିଲା । ସେଥିରୁ ସେ ୧୨ ଲିଟର ୩୫୦ ଟି.ଲି. ତେଲ ବିକିଦେଲେ । ତାଙ୍କ ପାଖରେ ଆଉ କେତେ ତେଲ ରହିଲା ?
- ଗ) ଗୋଟିଏ ବାଲ୍‌ବଟିରେ ୩ ଲିଟର ୩୦୦ ମିଲିଲିଟର ପାଣି ଧରେ । ସେହିଭଳି ୩ଟି ବାଲ୍‌ବଟିରେ କେତେ ପାଣି ଧରିବ ?
- ଘ) ୨୦୦ ଟି.ଲି. ପଳାରେ କେତେଥର ପାଣି ଢାଳିଲେ ୧ ଲିଟର ପଳା ଭର୍ତ୍ତି ହେବ ?
୨. ପରିମାଣ କେତେ ହେବ ଅନୁମାନ କରି ତାହାଣ ପାଖ କୋଠରିରେ ଥିବା ଠିକ୍ ଉତ୍ତରରେ ମୁଣ୍ଡୁଳା ବୁଲାଇ ।

ଗୋଟିଏ କାର୍‌ର ପେଟ୍ରୋଲ ଟାଙ୍କିରେ ଥିବା ତେଲ ପରିମାଣ	୬୦ ଟି.ଲି.	୨୫ ଲି.	୬୦୦ ଲି.
ଠୋପାଏ ପାଣିର ପରିମାଣ	୧ ଟି.ଲି.	୧ ଲି.	୧୦ ଲି.
ଗୋଟିଏ ରଂଗ ଡବାରେ ଥିବା ରଂଗର ପରିମାଣ	୫ ଟି.ଲି.	୫ଲି.	୫୦୦ଲି.
ଗୋଟିଏ ଗ୍ଲାସରେ ଥିବା କ୍ଷୀରର ପରିମାଣ	୨୦୦୦ ଟି.ଲି.	୨୪ଲି.	୨୦୦ ଟି.ଲି.
ଗୋଟିଏ ବାଲ୍‌ବଟିରେ ଥିବା ପାଣିର ପରିମାଣ	୧୦୦ ଟି.ଲି.	୩୦ଲି.	୩୦୦ ଲି.



୩. ଦୁଇଟି ଟିଣରେ ଥିବା ୫ଲି. ୨୦୦ ମି.ଲି. ଏବଂ ୬ ଲି. ୩୦୦ ମି.ଲି. ତେଲକୁ ଏକାଠି କରିଦିଆଗଲା ଓ ତହିଁରୁ ୭ଲି. ୮୦୦ ମି.ଲି. ତେଲ ବିକ୍ରି ହୋଇଗଲା । ଆଉ କେତେ ତେଲ ବଳିଲା ?

ପ୍ରଥମ ଟିଣରେ ଥିବା ତେଲର ପରିମାଣ = _____

ଦ୍ୱିତୀୟ ଟିଣରେ ଥିବା ତେଲର ପରିମାଣ = _____

ଦୁଇଟିଯାକ ଟିଣରେ ଥିବା ମୋଟ ତେଲର ପରିମାଣ = _____

ବିକ୍ରି ହୋଇଥିବା ତେଲର ପରିମାଣ = _____

ବଳିଥିବା ତେଲର ପରିମାଣ = _____

୪. ୧୫ଲି. ୪୦୦ ମି.ଲି. ତେଲ ଥିବା ଏକ ତେଲଟିଣରୁ ୨ ଲିଟର ୬୦୦ ମି.ଲି. ତେଲ ଖର୍ଚ୍ଚ ହେବା ପରେ ଅବଶିଷ୍ଟ ତେଲକୁ ୪ ଜଣ ସମାନ ଭାଗ କରି ନେଲେ । ପ୍ରତ୍ୟେକ କେତେ ପରିମାଣର ତେଲ ନେଲେ ?

କ) ଟିଣରେ କେତେ ତେଲ ଥିଲା ?

ଖ) କେତେ ତେଲ ଖର୍ଚ୍ଚ ହେଲା ?

ଗ) ଖର୍ଚ୍ଚ ହେବା ପରେ କେତେ ତେଲ ରହିଲା ?

ଘ) ଅବଶିଷ୍ଟ ତେଲକୁ କେତେ ଜଣ ଭାଗ କରିନେଲେ ?

ଙ) ପ୍ରତ୍ୟେକଙ୍କ ଭାଗରେ କେତେ ତେଲ ପଡ଼ିଲା ?

୫. ରଙ୍ଗ ଦିଆଯିବା ପାଇଁ ଉନ୍ମେଶବୀରୁ ୧୦ଲି. ରଙ୍ଗ ଥିବା ଡବାଟିଏ ଆଣିଲେ । କବାଟ ରଙ୍ଗ କରିବାରେ ୩ଲି. ୨୫୦ମି.ଲି. ଓ ଝରକା ରଙ୍ଗ କରିବାରେ ୨ ଲି. ୮୦୦ ମି.ଲି. ରଙ୍ଗ ଖର୍ଚ୍ଚ ହେଲା । ଆଉ କେତେ ରଙ୍ଗ ବଳିଲା ?

୬. ତରୁଣବୀରୁ କ୍ଷୀର ସମବାୟ ସମିତିକୁ ଗୋଟିଏ ସପ୍ତାହରେ ସୋମବାର ଦିନ ଦେଇଥିବା କ୍ଷୀର ପରିମାଣ ନିମ୍ନ ସାରଣୀରେ ଦିଆଯାଇଛି । ତଳେ ଥିବା ତଥ୍ୟକୁ ପଢ଼ି ସାରଣୀର ଖାଲି ଘରଗୁଡ଼ିକୁ ପୂରଣ କର ।

ରବିବାର	ସୋମବାର	ମଙ୍ଗଳବାର	ବୁଧବାର	ଗୁରୁବାର	ଶୁକ୍ରବାର	ଶନିବାର
	୮ଲି.୬୦୦ମି.ଲି.					

କ) ରବିବାର ଦିନ ସୋମବାର ଅପେକ୍ଷା ୭୦୦ ମି.ଲି. କମ୍ କ୍ଷୀର ଦିଆଯାଇଥିଲା ।

ଖ) ରବି, ସୋମ, ମଙ୍ଗଳ ବାର ତିନି ଦିନରେ ମୋଟ ୨୩ଲି. ୩୫୦ ମି.ଲି. କ୍ଷୀର ଦିଆଯାଇଥିଲା ।

ଗ) ସୋମବାର ଦିନ ଯେତେ କ୍ଷୀର ଦିଆଯାଇଥିଲା, ବୁଧବାର ଦିନ ତା'ର ଅଧା କ୍ଷୀର ଦିଆଯାଇଥିଲା ।

ଘ) ମଙ୍ଗଳବାର ଦିନ ଯେତେ କ୍ଷୀର ଦିଆଯାଇଥିଲା, ଗୁରୁବାର ଦିନ ତା' ଅପେକ୍ଷା ୧ ଲି. ୨୫୦ ମି.ଲି. ଅଧିକ ଦିଆଯାଇଥିଲା ।

ଙ) ମଙ୍ଗଳ, ବୁଧ ଓ ଶୁକ୍ର ବାରରେ ମୋଟ ୨୪ଲି. ୨୦୦ ମି.ଲି. କ୍ଷୀର ଦିଆଯାଇଥିଲା ।

ଚ) ଶୁକ୍ରବାର ଯେତେ କ୍ଷୀର ଦିଆଯାଇଥିଲା ଶନିବାର ଦିନ ତା'ର ୨ ଗୁଣରୁ ୧ ଲି ୧୦୦ ମି.ଲି. କ୍ଷୀର ଅଧିକ ଦିଆଯାଇଥିଲା ।

୭. ୫ ଲିଟର ଅଶୋଧିତ ତେଲରୁ ୩ ଲିଟର ଶୁଦ୍ଧ ତେଲ ବାହାରେ । ତେବେ -

କ) ୫୦ ଲିଟର ଅଶୋଧିତ ତେଲରୁ କେତେ ଲିଟର ଶୁଦ୍ଧ ତେଲ ବାହାରିବ ?

ଖ) ୫୦୦ ଲିଟର ଅଶୋଧିତ ତେଲରୁ କେତେ ଶୁଦ୍ଧ ତେଲ ବାହାରିବ ?

ଗ) ୫୦୦୦ ଲିଟର ଅଶୋଧିତ ତେଲରୁ କେତେ ଲିଟର ଶୁଦ୍ଧ ତେଲ ବାହାରିବ ?

ଘ) କେତେ ଅଶୋଧିତ ତେଲରୁ ୩୬ ଲିଟର ଶୁଦ୍ଧ ତେଲ ବାହାରିବ ?

