

अनुक्रमांक

नाम

932

2023

825(EX)

सामाजिक विज्ञान

(Hindi and English versions)

समय : तीन घण्टे 15 मिनट .]

[पूर्णांक : 70

नोट : प्रारम्भ के 15 मिनट परीक्षार्थियों को प्रश्नपत्र पढ़ने के लिए निर्धारित हैं ।

Note : First 15 minutes are allotted for the candidates to read the question paper.

निर्देश :

- i) सभी प्रश्न अनिवार्य हैं ।
- ii) इस प्रश्नपत्र के दो खण्ड, खण्ड - अ तथा खण्ड - ब हैं ।
- iii) खण्ड - अ में 1 अंक के 20 बहुविकल्पीय प्रश्न हैं जिनके उत्तर ओ० एम० आर० उत्तर पत्रक पर देने हैं ।
- iv) खण्ड - अ के प्रत्येक प्रश्न का निर्देश पढ़कर केवल प्रदत्त ओ० एम० आर० उत्तर पत्रक पर ही उत्तर दें। ओ० एम० आर० उत्तर पत्रक पर उत्तर देने के पश्चात उसे नहीं काटें तथा इरेजर अथवा हाइटनर का प्रयोग न करें ।
- v) प्रश्न के अंक उसके सम्मुख अंकित हैं ।
- vi) खण्ड - ब में 50 अंक के वर्णनात्मक प्रश्न हैं । इस खण्ड में वर्णनात्मक-I, वर्णनात्मक-II तथा मानचित्र सम्बन्धी दो प्रश्न हैं।
- vii) खण्ड - ब में सभी प्रश्नों के उत्तर एक साथ ही करें ।
- viii) प्रथम प्रश्न से आरम्भ कीजिए तथा अन्तिम प्रश्न तक करते जाइए । जो प्रश्न न आता हो उस पर समय नष्ट न कीजिए ।
- ix) दिए गए मानचित्रों को उत्तर-पुस्तिका के साथ मजबूती से संलग्न करना आवश्यक है।
- x) दृष्टिबाधित परीक्षार्थियों के लिए मानचित्र कार्य के स्थान पर अलग से प्रश्न 9(A) तथा 9(B) लिखने के लिए दिए गये हैं।

Instructions :

- i) All questions are compulsory.
- ii) This question paper has two Parts – **Part-A** and **Part-B**.
- iii) **Part-A** consists of **20** multiple choice questions of one mark each that have to be answered on OMR Answer Sheet.
- iv) For **Part-A** read the question-wise instructions and mark your answer on the given OMR Answer Sheet only. Do not erase, cut or use whitener on the OMR Answer Sheet after answering.
- v) Marks of the questions are mentioned against them.
- vi) **Part-B** consists of descriptive type questions of **50** marks. There are Descriptive-I, Descriptive-II and two map related questions in this part.
- vii) All the questions of **Part-B** are to be attempted all at a time.
- viii) Start from the first question and go up to the last question. Do not waste your time on the question you cannot solve.
- ix) Attach firmly the supplied maps in your answer-book.
- x) For visually impaired examinees Question Nos. 9(A) and 9(B) have been given separately for writing answers in lieu of map work.

खण्ड - अ**PART - A****(बहुविकल्पीय प्रश्न)****(Multiple Choice Type Questions)**

निर्देश : नीचे दिए गए प्रश्नों के प्रत्येक प्रश्न के चार विकल्प दिए गए हैं। सही विकल्प चुनकर उसे

OMR उत्तर पत्रक पर चिह्नित करें :

Instruction : Four alternatives are given for each of the following questions. Choose the correct alternative and mark on **OMR** answer sheet :

1. निम्नलिखित नेताओं में से किसने एक गुप्त संगठन 'यंग इटली' बनाया ?

(A) विक्टर इमैनुएल द्वितीय	(B) ज्यूसेपे मेत्सिनी
(C) काउण्ट कावूर	(D) ज्यूसेपे गैरीबाल्डी
1. Who among the following leaders formed a secret society named 'Young Italy' ?

(A) Victor Emmanuel II	(B) Giuseppe Mazzini
(C) Count Cavour	(D) Giuseppe Garibaldi

2. निम्नलिखित में से किसे 1871 में जर्मनी का प्रथम सम्राट घोषित किया गया ?
 (A) कैसर विलियम प्रथम (B) विलियम द्वितीय
 (C) फ्रेडरिक विल्हेम प्रथम (D) आटो वान बिस्मार्क 1
2. Who among the following was proclaimed as the first German Emperor in 1871 ?
 (A) Kaiser William I (B) William II
 (C) Friedrich Wilhelm I (D) Otto von Bismarck 1
3. 1789 में फ्रांस में किस प्रकार का शासन था ?
 (A) सीमित राजतंत्र (B) असीमित राजतंत्र
 (C) कुलीनतंत्र (D) लोकतंत्र 1
3. What type of government was in France in 1789 ?
 (A) Limited monarchy (B) Unlimited monarchy
 (C) Aristocracy (D) Democracy 1
4. ब्रिटेन में 'कॉर्न कानून' समाप्त करने का क्या कारण था ?
 (A) जनसंख्या में वृद्धि (B) कृषि उत्पादों में अधिकता
 (C) कॉर्न आयात पर नियंत्रण (D) उद्योगपतियों एवं शहरी लोगों का विरोध 1
4. What was the main cause of the end of 'Corn laws' ?
 (A) Increase in population
 (B) Excessive agricultural products
 (C) Control on corn import
 (D) The protest by industrialists and urban people 1
5. 1944 में 'ब्रेटन वुड्स सम्मेलन' कहाँ आयोजित किया गया ?
 (A) ब्रिटेन (B) अमेरिका
 (C) फ्रांस (D) भारत 1
5. Where was 'Bretton Woods Conference' organised in 1944 ?
 (A) Britain (B) U.S.A.
 (C) France (D) India 1
6. निम्नलिखित में से कौन-सा विषय संघ सूची में है ?
 (A) प्रतिरक्षा (B) कृषि
 (C) शिक्षा (D) व्यापार 1

6. Which of the following is a subject of the Union List ?
 (A) Defence (B) Agriculture
 (C) Education (D) Commerce
7. श्रीलंका में कौन-सा बहुसंख्यक वर्ग है ?
 (A) तमिल (B) ईसाई
 (C) सिंहली (D) मुस्लिम
7. Which is the majority group in Sri Lanka ?
 (A) Tamils (B) Christians
 (C) Sinhalese (D) Muslims
8. निम्नलिखित देशों में कहाँ संघात्मक शासन नहीं है ?
 (A) भारत (B) बेल्जियम
 (C) संयुक्त राज्य अमेरिका (D) श्रीलंका
8. Where in the following there is no federal government ?
 (A) India (B) Belgium
 (C) U.S.A. (D) Sri Lanka
9. महात्मा गाँधी का विचार था
 (A) धर्म को कभी भी राजनीति से अलग नहीं किया जा सकता
 (B) धर्म का राजनीति से कोई सम्बन्ध नहीं है
 (C) धर्म और राजनीति अलग-अलग हैं
 (D) इनमें से कोई नहीं
9. It was the opinion of Mahatma Gandhi that
 (A) Religion can never be separated from politics
 (B) There is no relation between religion and politics
 (C) Religion and politics are different things
 (D) None of these
10. निम्नलिखित में से कौन-सा लोकतंत्र से सम्बन्धित है ?
 (A) पारदर्शी शासन (B) वैध शासन
 (C) उत्तरदायी शासन (D) इनमें से सभी
10. Which of the following is related to democracy ?
 (A) Transparent Government (B) Legitimate Government
 (C) Responsible Government (D) All of these

11. निम्नलिखित में से किस राज्य में सीढ़ीदार (सोपानी) खेती की जाती है ?
 (A) हरियाणा (B) पंजाब
 (C) उत्तराखण्ड (D) उत्तर प्रदेश के मैदान 1
11. In which one of the following states is terraced farming practised ?
 (A) Haryana (B) Punjab
 (C) Uttarakhand (D) Plains of Uttar Pradesh 1
12. निम्नलिखित में से कौन-सी रबी फसल है ?
 (A) चावल (B) मीठे अनाज
 (C) चना (D) कपास 1
12. Which one of the following is a rabi crop ?
 (A) Rice (B) Coarse grains
 (C) Gram (D) Cotton 1
13. मोनाजाइट रेत में निम्नलिखित में से कौन-सा खनिज पाया जाता है ?
 (A) खनिज तेल (B) यूरेनियम
 (C) थोरियम (D) कोयला 1
13. Which one of the following minerals is found in Monazite sands ?
 (A) Mineral oil (B) Uranium
 (C) Thorium (D) Coal 1
14. निम्नलिखित में से कौन-सा उद्योग चूना-पत्थर को कच्चे माल के रूप में प्रयुक्त करता है ?
 (A) प्लास्टिक (B) मोटर गाड़ी
 (C) सीमेंट (D) एल्यूमिनियम 1
14. In which one of the following industries is limestone used as raw material ?
 (A) Plastic (B) Automobile
 (C) Cement (D) Aluminium 1
15. निम्नलिखित पड़ोसी देशों में से मानव विकास के लिहाज से किस देश की स्थिति भारत से बेहतर है ? (2017)
 (A) पाकिस्तान (B) बांग्लादेश
 (C) श्रीलंका (D) नेपाल 1
15. Which one of the following neighbouring countries has better position in terms of human development than India ? (2017)
 (A) Pakistan (B) Bangladesh
 (C) Sri Lanka (D) Nepal 1

16. निम्नलिखित में से कौन-सा खनिज धात्विक है ?
 (A) अभ्रक (B) कोयला 1
 (C) लौह अयस्क (D) चूना पत्थर
16. Which one of the following minerals is metallic ?
 (A) Mica (B) Coal 1
 (C) Iron ore (D) Limestone
17. एक वस्तु का अधिकांशतः प्राकृतिक प्रक्रिया से उत्पादन में सम्मिलित है।
 (A) प्रारंभिक क्षेत्रक (B) द्वितीयक क्षेत्रक 1
 (C) तृतीयक क्षेत्रक (D) सूचना प्रौद्योगिकी क्षेत्रक
17. The production of a commodity mostly through the natural process is included in
 (A) Primary sector (B) Secondary sector 1
 (C) Tertiary sector (D) Information Technology sector
18. एन्थ्रासाइट का सम्बन्ध निम्नलिखित में से किस खनिज से है ?
 (A) लौह अयस्क (B) बाक्साइट 1
 (C) कोयला (D) सोना
18. To which of the following minerals is Anthracite related ?
 (A) Iron ore (B) Bauxite 1
 (C) Coal (D) Gold
19. निम्नलिखित में से किस वर्ष बांग्लादेश ग्रामीण बैंक की स्थापना की गयी ?
 (A) 1960 (B) 1980 1
 (C) 1970 (D) 1950
19. In which one of the following years was Bangladesh Grameen Bank established ?
 (A) 1960 (B) 1980 1
 (C) 1970 (D) 1950
20. सार्वजनिक और निजी क्षेत्रों का वर्गीकरण निम्नलिखित में से किस आधार पर निर्धारित किया जाता है ?
 (A) रोजगार की शर्तें (B) आर्थिक गति की प्रकृति 1
 (C) उद्यमों के स्वामित्व (D) उद्यम में नियोजित श्रमिकों की संख्या

20. On which one of the following bases are public and private sectors classified ?
- Employment conditions
 - Nature of economic activity
 - Ownership of enterprises
 - Number of workers employed in enterprises

खण्ड - व

PART - B

(वर्णनात्मक - I)

(Descriptive - I)

(निम्न प्रश्नों के उत्तर प्रत्येक लगभग 80 शब्दों में दीजिए ।)

(Write answers of these questions in about 80 words each.)

1. अठारहवीं शताब्दी के अन्त में भारत से कपड़ा निर्यात में गिरावट क्यों आई ? दो कारण बताइए।

2 - 2

अथवा

उन्नीसवीं शताब्दी के दौरान अन्तरराष्ट्रीय अर्थशास्त्रियों द्वारा बताए गए किन्हीं दो प्रवृत्तियों को स्पष्ट कीजिए।

2 + 2

1. Why did the textile exports from India decline in the late eighteenth century ? Explain *two* causes.

2 - 2

OR

Explain any *two* types of movements or flows identified by the international economists during the nineteenth century.

2 + 2

2. भारत में राजनीतिक क्षमता के विकेन्द्रीकरण के पीछे क्या मूल सोच थी ?

4

अथवा

भारत में केन्द्र और राज्यों के बीच सत्ता के बँटवारे की किन्हीं दो विशेषताओं का उल्लेख कीजिए।

2 + 2

2. Explain the basic idea behind the decentralization of political power in India.

4

OR

Explain any *two* characteristics of distribution of powers between the centre and states in India.

2 - 2

3. एक संसाधन के रूप में मिट्टी के महत्त्व का उल्लेख करें तथा भारत में पायी जानेवाली किन्हीं दो प्रकार की मिट्टियों का वर्णन कीजिए। 2 + 2

अथवा

अभ्रक की उपयोगिता बताइए एवं भारत में इसके किन्हीं दो उत्पादक राज्यों का भी उल्लेख कीजिए। 2 + 2

3. Mention the importance of soil as a resource and describe any two types of soil found in India. 2 + 2

OR

State the usefulness of mica and also mention any two producing states of this in India. 2 + 2

4. राष्ट्रीय आय तथा प्रति व्यक्ति आय में विभेद कीजिए। देशों की स्थिति की तुलना के लिए इनमें से कौन-सी विधि बेहतर है ? 2 + 2

अथवा

विदेशी व्यापार से आप क्या समझते हैं ? विदेशी व्यापार को अनुकूल बनाने के लिए कोई दो सुझाव दीजिए। 2 + 2

4. Differentiate between national income and per capita income. Which one of these is better to compare the condition of different countries ? 2 + 2

OR

What do you understand by foreign trade ? Give any two suggestions to make foreign trade favourable. 2 + 2

(वर्णनात्मक - II)

(Descriptive - II)

(निम्न प्रश्नों के उत्तर प्रत्येक लगभग 150 शब्दों में दीजिए।)

(Write answers of these questions in about 150 words each.)

5. सत्याग्रह का क्या अर्थ है ? महात्मा गाँधी द्वारा चलाए गए तीन सत्याग्रह आन्दोलनों का विश्लेषण कीजिए।

अथवा

2 + 4

असहयोग आन्दोलन कब चलाया गया ? इस आन्दोलन के किन्हीं दो कारणों की विवेचना कीजिए।

5. What do you mean by Satyagraha ? Analyse three satyagraha movements launched by Mahatma Gandhi. 2 + 4

OR

When was Non-cooperation Movement launched ? Discuss any two causes of this movement. 2 + 4

6. "भारतीय समाज में जाति प्रथा अभी भी प्रचलित है।" इसके कारण क्या हैं ? इसको समाप्त करने के दो उपाय बताइए। 4 + 2

अथवा

भारत में महिलाओं के प्रति भेदभाव के तरीकों का वर्णन कीजिये। 6

6. "Caste system is still prevalent in Indian society." Write its causes. Suggest two measures to abolish it. 4 + 2

OR

Describe the ways of discrimination faced by women in India. 6

7. गन्ने की खेती के लिए उपयुक्त भौगोलिक परिस्थितियों का वर्णन कीजिए तथा भारत में इसके किन्हीं तीन उत्पादक राज्यों का भी उल्लेख कीजिए। 3 + 3

अथवा

भू-क्षरण से आप क्या समझते हैं ? इसे रोकने के लिए कोई चार उपाय बताइए। 2 + 4

7. Describe the suitable geographical conditions for the cultivation of sugarcane and also mention any three producing states of this in India. 3 + 3

OR

What do you understand by soil erosion ? Give any four measures to prevent it. 2 + 4

8. प्राथमिक एवं द्वितीयक क्षेत्रों की विशेषताओं की विवेचना कीजिए। 3 + 3

अथवा

असंगठित क्षेत्रक के श्रमिकों की समस्याओं की विवेचना कीजिए। 6

8. Discuss the characteristics of primary and secondary sectors. 3 + 3

OR

Discuss the problems of the labourers of the unorganised sector. 6

(मानचित्र सम्बन्धी प्रश्न)

(Map Work)

निर्देश : प्रश्न संख्या 9(A) तथा 9(B) मानचित्र से संबंधित हैं।

Instruction : Question Nos. 9(A) and 9(B) are related to map.

9(A). निम्नलिखित स्थानों को भारत के दिये गये रेखा मानचित्र में \odot चिह्न द्वारा नाम सहित दर्शाए।






सही नाम तथा सही अंकन के लिये $\frac{1}{2}$, $\frac{1}{2}$ अंक निर्धारित हैं :

- | | | |
|------|---|-----------------------------|
| i) | वह स्थान जहाँ भारतीय राष्ट्रीय कांग्रेस का अधिवेशन सितम्बर, 1920 में हुआ। | $\frac{1}{2} + \frac{1}{2}$ |
| ii) | वह स्थान जहाँ महात्मा गाँधी ने नमक कानून तोड़ा। | $\frac{1}{2} + \frac{1}{2}$ |
| iii) | वह स्थान जहाँ जलियाँवाला बाग की घटना घटी। | $\frac{1}{2} + \frac{1}{2}$ |
| iv) | वह स्थान जहाँ महात्मा गाँधी का किसान सत्याग्रह आन्दोलन हुआ। | $\frac{1}{2} + \frac{1}{2}$ |
| v) | वह जिला जहाँ चोरी-चौरा की घटना घटी। | $\frac{1}{2} + \frac{1}{2}$ |






9(A). In the given outline map of India, locate the following places by the symbol \odot with names. For correct mention of name and location $\frac{1}{2}$, $\frac{1}{2}$ marks have been allotted.

- | | | |
|------|--|-----------------------------|
| i) | The place where the session of Indian National Congress was held in September, 1920. | $\frac{1}{2} + \frac{1}{2}$ |
| ii) | The place where Mahatma Gandhi broke the Salt Law. | $\frac{1}{2} + \frac{1}{2}$ |
| iii) | The place where Jallianwala Bagh incident took place. | $\frac{1}{2} + \frac{1}{2}$ |
| iv) | The place where the Satyagraha Movement of peasants of Mahatma Gandhi took place. | $\frac{1}{2} + \frac{1}{2}$ |
| v) | The district where Chauri-Chaura incident took place. | $\frac{1}{2} + \frac{1}{2}$ |

9(B). निर्देश : दिये गये भारत के मानचित्र में निम्नलिखित को दर्शाइए :

- | | | |
|------|--|-----------------------------|
| i) | उत्तर प्रदेश की राजधानी नगर  चिह्न द्वारा नाम सहित। | $\frac{1}{2} + \frac{1}{2}$ |
| ii) | नर्मदा नदी पर बना एक बाँध  चिह्न द्वारा नाम सहित। | $\frac{1}{2} + \frac{1}{2}$ |
| iii) | दक्षिण भारत की एक प्रमुख नदी  चिह्न द्वारा नाम सहित। | $\frac{1}{2} + \frac{1}{2}$ |
| iv) | भारत के किसी एक जूट उत्पादक राज्य  चिह्न द्वारा नाम सहित। | $\frac{1}{2} + \frac{1}{2}$ |
| v) | भारत का कोई एक परमाणु ऊर्जा केन्द्र  चिह्न द्वारा नाम सहित। | $\frac{1}{2} + \frac{1}{2}$ |

9(B). Instruction : Show the following on the given map of India :

- | | | |
|------|---|-----------------------------|
| i) | The capital city of Uttar Pradesh by  symbol with name. | $\frac{1}{2} + \frac{1}{2}$ |
| ii) | A dam on the river Narmada by  symbol with name. | $\frac{1}{2} + \frac{1}{2}$ |
| iii) | An important river of South India by  symbol with name. | $\frac{1}{2} + \frac{1}{2}$ |
| iv) | A jute producing state of India by  symbol with name. | $\frac{1}{2} + \frac{1}{2}$ |
| v) | An atomic energy centre of India by  symbol with name. | $\frac{1}{2} + \frac{1}{2}$ |

(केवल दृष्टिबाधित परीक्षार्थियों के लिये मानचित्र कार्य के विकल्प के रूप में)

(Only for visually impaired examinees in lieu of Map work)

9(A). निर्देश : निम्नलिखित प्रश्नों के उत्तर अपनी उत्तर-पुस्तिका में लिखिए। मानचित्र का प्रयोग न कीजिए।

- | | | |
|------|--|---|
| i) | भारतीय राष्ट्रीय कांग्रेस का अधिवेशन सितम्बर, 1920 में कहाँ हुआ था ? | 1 |
| ii) | महात्मा गाँधी ने नमक कानून किस स्थान पर तोड़ा था ? | 1 |
| iii) | जलियाँवाला बाग की घटना कहाँ घटी थी ? | 1 |
| iv) | महात्मा गाँधी का किसान सत्याग्रह आन्दोलन कहाँ हुआ था ? | 1 |
| v) | चौरी-चौरा की घटना किस जिला में घटी ? | 1 |

[Turn over

9(A). *Instruction* : Write the answers of the following questions in your answer-book. Do not use map.

- i) Name the place where the session of Indian National Congress was held in September, 1920. 1
- ii) Where did Mahatma Gandhi break the Salt Law ? 1
- iii) Where did Jallianwala Bagh incident take place ? 1
- iv) Where did Satyagraha Movement of peasants of Mahatma Gandhi take place ? 1
- v) In which district did the incident of Chauri-Chaura take place ? 1

9(B). निर्देश : निम्नलिखित प्रश्नों के उत्तर अपनी उत्तर-पुस्तिका में लिखिए। मानचित्र का प्रयोग न कीजिए।

- i) उत्तर प्रदेश की राजधानी नगर का नाम लिखिए। 1
- ii) नर्मदा नदी पर बने बाँध का नाम लिखिए। 1
- iii) दक्षिण भारत की एक प्रमुख नदी का नाम लिखिए। 1
- iv) भारत के एक जूट उत्पादक राज्य का नाम लिखिए। 1
- v) भारत के एक परमाणु ऊर्जा केन्द्र का नाम लिखिए। 1

9(B). *Instruction* : Write answers of the following questions in your answer-book. Do not use the map.

- i) Write the name of the capital city of Uttar Pradesh. 1
- ii) Write the name of the dam constructed on the river Narmada. 1
- iii) Write the name of an important river of South India. 1
- iv) Write the name of a jute producing state of India. 1
- v) Write the name of an atomic energy centre of India. 1